



Banco do Nordeste

Concurso Público 2014

Prova escrita objetiva – Nível Médio

ANALISTA BANCÁRIO 1

TIPO 2 – VERDE

Informações Gerais

- Você receberá do fiscal de sala:
 - uma folha de respostas destinada à marcação das respostas das questões objetivas;
 - esse caderno de prova contendo **80** questões objetivas, cada qual com **cinco** alternativas de respostas (A, B, C, D e E).
- Verifique se seu caderno está completo, sem repetição de questões ou falhas. Caso contrário, notifique imediatamente o fiscal de sala para que sejam tomadas as devidas providências.
- As questões objetivas são identificadas pelo número situado acima do seu enunciado.
- Ao receber as folhas de respostas da prova objetiva você deve:
 - conferir seus dados pessoais, em especial seu nome, número de inscrição e o número do documento de identidade;
 - ler atentamente as instruções para o preenchimento da folha de respostas;
 - marcar nas folhas de respostas da prova objetiva o campo relativo à confirmação do tipo/cor de prova, conforme o caderno que você recebeu;
 - assinar seu nome, apenas nos espaços reservados, com caneta esferográfica de tinta azul ou preta.
- Durante a aplicação da prova não será permitido:
 - qualquer tipo de comunicação entre os candidatos;
 - levantar da cadeira sem a devida autorização do fiscal de sala;
 - portar aparelhos eletrônicos, tais como *bipe*, telefone celular, agenda eletrônica, *notebook*, *palmtop*, receptor, gravador, máquina de calcular, máquina fotográfica digital, controle de alarme de carro etc., bem como relógio de qualquer modelo, óculos escuros ou quaisquer acessórios de chapelaria, tais como chapéu, boné, gorro etc. e, ainda, lápis, lapiseira (grafite), corretor líquido e/ou borracha. Tal infração poderá acarretar a eliminação sumária do candidato.
- O preenchimento das respostas da prova objetiva, de inteira responsabilidade do candidato, deverá ser feito com caneta esferográfica de tinta indelével de cor preta ou azul. **Não será permitida a troca da folha de respostas por erro do candidato.**
- O tempo disponível para a realização da prova é de **4 (quatro)** horas, já incluído o tempo para a marcação da folha de respostas da prova objetiva.
- Reserve tempo suficiente para o preenchimento de suas respostas. Para fins de avaliação, serão levadas em consideração apenas as marcações realizadas nas folhas de respostas da prova objetiva, não sendo permitido anotar informações relativas às suas respostas em qualquer outro meio que não seja o próprio caderno de provas.
- Somente após decorrida **uma hora** do início da prova você poderá retirar-se da sala de prova sem, contudo, levar o caderno de provas.
- Somente no decorrer dos últimos **sessenta minutos** do período da prova, você poderá retirar-se da sala levando o caderno de provas.
- Ao terminar a prova, entregue a folha de respostas ao fiscal da sala e deixe o local de prova. Caso você se negue a entregar, será eliminado do concurso.
- A FGV realizará a coleta da impressão digital dos candidatos na folha de respostas.
- Os candidatos poderão ser submetidos a sistema de detecção de metais quando do ingresso e da saída de sanitários durante a realização das provas. Ao sair da sala, ao término da prova, o candidato não poderá usar o sanitário.
- Os gabaritos preliminares das provas objetivas serão divulgados no dia **09/06/2014**, no endereço eletrônico www.fgv.br/fgvprojetos/concursos/bancodonordeste.
- O prazo para interposição de recursos contra os gabaritos preliminares será das 0h00min do dia **10/06/2014** até às 23h59min do dia **11/06/2014**, observado o horário oficial, no endereço www.fgv.br/fgvprojetos/concursos/bancodonordeste, por meio do Sistema Eletrônico de Interposição de Recurso.

Língua Portuguesa

SEM SOLUÇÃO

Carlos Heitor Cony – Folha de São Paulo

Foi melancólico o 1º de Maio deste ano. Não tivemos a tragédia do Riocentro, que até hoje não foi bem explicada e, para todos os efeitos, marcou o início do fim da ditadura militar.

Tampouco ressuscitamos o entusiasmo das festividades, os desfiles e a tradicional arenga de um ditador que, durante anos, começava seus discursos com o famoso mantra: "Trabalhadores do Brasil".

De qualquer forma, era um pretexto para os governos de plantão forçarem um clima de conciliação nacional, o salário mínimo era aumentado e, nos teatros da praça Tiradentes, havia sempre uma apoteose patriótica com os grandes nomes do rebolado agitando bandeirinhas nacionais. Nos rádios, a trilha musical era dos brados e hinos militares, na base do "avante camaradas".

Este ano, a tônica foram as vaías que os camaradas deram às autoridades federais, estaduais e municipais. Com os suculentos escândalos (mensalão, Petrobrás e outros menos votados), as manifestações contra os 12 anos de PT, que começaram no ano passado, só não tiveram maior destaque porque a mídia deu preferência mais que merecida aos 20 anos da morte do nosso maior ídolo esportivo.

Depois de Ayrton Senna, o prestígio de nossas cores está em baixa, a menos que Paulo Coelho ganhe antecipadamente o Nobel de Literatura e Roberto Carlos dê um show no Teatro alla Scala, em Milão, ou no Covent Garden, em Londres.

Sim, teremos uma Copa do Mundo para exorcizar o gol de Alcides Gighia, na Copa de 1950, mas há presságios sinistros de grandes manifestações contra o governo e a FIFA, que de repente tornou-se a besta negra da nossa soberania.

A única solução para tantos infortúnios seria convidar o papa Francisco para apitar a final do Mundial, desde que Sua Santidade não roube a favor da Argentina.

1

"Não tivemos a tragédia do Riocentro, que até hoje não foi bem explicada e, para todos os efeitos, marcou o início do fim da ditadura militar". A expressão "para todos os efeitos", por seu aspecto modalizador, se aproxima de outra expressão do texto, que é:

- (A) "Tampouco ressuscitamos o entusiasmo das festividades, os desfiles e a tradicional arenga de um ditador...";
- (B) "De qualquer forma, era um pretexto para os governos de plantão forçarem um clima de conciliação nacional...";
- (C) "Nos rádios, a trilha musical era dos brados e hinos militares, na base do "avante camaradas";
- (D) "Sim, teremos uma Copa do Mundo para exorcizar o gol de Alcides Gighia, na Copa de 1950...";
- (E) "... mas há presságios sinistros de grandes manifestações contra o governo e a FIFA, que de repente tornou-se a besta negra da nossa soberania".

2

O verbo "ressuscitar" mostra corretamente a grafia, com o emprego de SC; o vocábulo abaixo que está grafado erradamente por incluir essas mesmas consoantes é:

- (A) ascender;
- (B) adolescência;
- (C) fascismo;
- (D) indescente;
- (E) piscina.

3

"A única solução para tantos infortúnios seria convidar o papa Francisco para apitar a final do Mundial, desde que Sua Santidade não roube..."; se, em lugar de "o papa Francisco" estivesse "o rei da Espanha", a forma "Sua Santidade" deveria ser substituída adequadamente por:

- (A) Vossa Excelência;
- (B) Vossa Majestade;
- (C) Vossa Senhoria;
- (D) Sua Excelência;
- (E) Sua Majestade.

4

A tragédia do Riocentro, citada no primeiro parágrafo, tem a função textual de:

- (A) indicar um fato importante ocorrido em dia 1º de Maio;
- (B) destacar uma tragédia que mudou a vida dos trabalhadores;
- (C) comparar um fato antigo aos fatos políticos de hoje;
- (D) destacar o fim da ditadura militar como uma ocorrência prejudicial;
- (E) valorizar um fato histórico por seu lado popular.

5

"Sim, teremos uma Copa do Mundo para exorcizar o gol de Alcides Gighia, na Copa de 1950, mas há presságios sinistros de grandes manifestações contra o governo e a FIFA, que de repente tornou-se a besta negra da nossa soberania". O conectivo "mas" sublinhado opõe termos dos segmentos que liga, que são:

- (A) Copa do Mundo X FIFA;
- (B) exorcizar X presságios sinistros;
- (C) gol de Alcides Gighia X manifestações;
- (D) manifestações X besta negra;
- (E) exorcizar X besta negra.

6

"... os suculentos escândalos... só não tiveram maior destaque porque a mídia deu preferência mais que merecida aos 20 anos da morte do nosso maior ídolo esportivo."

Nesse segmento o autor do texto:

- (A) reprova a atitude parcial da mídia;
- (B) critica a valorização do esporte sobre a política;
- (C) apoia a mídia em desvalorizar as manifestações de rua;
- (D) defende a mídia em sua atuação no caso citado;
- (E) comprova a inconsciência política do brasileiro.

7

O texto de Carlos Heitor Cony apresenta uma estrutura que pretende:

- (A) lamentar a ausência de fatos significativos no Dia do Trabalho;
- (B) condenar as atuais autoridades por não respeitarem o Dia do Trabalho;
- (C) comemorar, a seu modo, a realização do Dia do Trabalho;
- (D) sugerir modificações nas comemorações do Dia do Trabalho;
- (E) mostrar as modificações históricas do Dia do Trabalho.

8

O segmento do texto que NÃO manifesta qualquer tipo de posicionamento opinativo do autor do texto é:

- (A) “Foi melancólico o 1º de Maio deste ano”;
- (B) “Não tivemos a tragédia do Riocentro, que até hoje não foi bem explicada e, para todos os efeitos, marcou o início do fim da ditadura militar”;
- (C) “Tampouco ressuscitamos o entusiasmo das festividades, os desfiles e a tradicional arenga de um ditador que, durante anos, começava seus discursos com o famoso mantra: “Trabalhadores do Brasil”;
- (D) “... e, nos teatros da praça Tiradentes, havia sempre uma apoteose patriótica com os grandes nomes do rebolado agitando bandeirinhas nacionais”;
- (E) “Nos rádios, a trilha musical era dos brados e hinos militares”.

9

“... desde que Sua Santidade não roube a favor da Argentina”; o conectivo sublinhado pode ser adequadamente substituído, sem alteração das formas seguintes e do sentido original, por:

- (A) ainda que;
- (B) já que;
- (C) caso;
- (D) se;
- (E) a fim de que.

10

Na frase “Foi melancólico o 1º de Maio deste ano”, o emprego do demonstrativo “este” se justifica pela mesma razão que na seguinte frase:

- (A) João e Mário partiram, mas só este foi de ônibus;
- (B) Não me venha com este pedido de novo;
- (C) Passo por este momento com muita revolta;
- (D) Este é o meu e esse é o seu!
- (E) Este livro não me pertence.

11

“A única solução para tantos infortúnios...”; entre os “infortúnios” referidos, está presente:

- (A) Paulo Coelho ganhar o Prêmio Nobel de Literatura;
- (B) Roberto Carlos apresentar-se no Covent Garden, de Londres;
- (C) o aumento do salário mínimo nas festas de 1º de Maio;
- (D) as vaias dadas às autoridades federais, estaduais e municipais;
- (E) a morte de Ayrton Senna.

12

Em todos os segmentos abaixo ocorre uma citação de dois ou três elementos; o segmento em que a troca de posição desses elementos sublinhados traria incoerência ao texto é:

- (A) “a menos que Paulo Coelho ganhe antecipadamente o Nobel de Literatura e Roberto Carlos dê um show no Teatro alla Scala, em Milão, ou no Covent Garden, em Londres.”
- (B) “... a tônica foram as vaias que os camaradas deram às autoridades federais, estaduais e municipais.”
- (C) “...há presságios sinistros de grandes manifestações contra o governo e a Fifa, que de repente tornou-se a besta negra da nossa soberania.”
- (D) “Nos rádios, a trilha musical era dos brados e hinos militares, na base do “avante camaradas”.
- (E) “Com os suculentos escândalos (mensalão, Petrobrás e outros menos votados)...”

13

“De qualquer forma, era um pretexto para os governos de plantão forçarem um clima de conciliação nacional, o salário mínimo era aumentado e, nos teatros da praça Tiradentes, havia sempre uma apoteose patriótica com os grandes nomes do rebolado agitando bandeirinhas nacionais”.

O comentário adequado sobre os componentes desse segmento do texto é:

- (A) “pretexto” equivale a uma noção de causa claramente justificada;
- (B) “governos de plantão” se refere às autoridades bastante vigilantes;
- (C) “apoteose patriótica” está marcada por forte tom irônico;
- (D) o diminutivo em “bandeirinhas” tem valor afetivo;
- (E) as duas ocorrências do adjetivo “nacional” têm a mesma significação.

14

A alternativa em que o termo sublinhado está empregado em sentido lógico ou denotativo é:

- (A) “Este ano, a tônica foram as vaias que os camaradas deram às autoridades federais, estaduais e municipais”;
- (B) “Com os suculentos escândalos (mensalão, Petrobrás e outros menos votados), as manifestações contra os 12 anos de PT,...”;
- (C) “... que começaram no ano passado, só não tiveram maior destaque porque a mídia deu preferência mais que merecida aos 20 anos da morte do nosso maior ídolo esportivo”;
- (D) “Depois de Ayrton Senna, o prestígio de nossas cores está em baixa...”;
- (E) “Sim, teremos uma Copa do Mundo para exorcizar o gol de Alcides Gighia, na Copa de 1950...”.

15

“Sim, teremos uma Copa do Mundo para exorcizar o gol de Alcides Gighia”. A forma desenvolvida adequada da oração reduzida sublinhada é:

- (A) para exorcizarmos o gol de Alcides Gighia;
- (B) para que exorcizemos o gol de Alcides Gighia;
- (C) para que exorcizássemos o gol de Alcides Gighia;
- (D) para o exorcismo do gol de Alcides Gighia;
- (E) para a exorcização do gol de Alcides Gighia.

16

A abreviatura oficial dos meses do ano é feita com as três primeiras letras do mês seguidas de ponto; nesse caso, a única forma de abreviatura que, de fato, nada abrevia é:

- (A) Jan
- (B) Mai
- (C) Ago
- (D) Set
- (E) Dez

17

Se colocarmos o pronome oblíquo “o” após a forma do verbo “empobrecem”, a forma correta da frase seria:

- (A) empobrecem-o;
- (B) empobrecem-no;
- (C) empobrecem-lo;
- (D) empobrece-no;
- (E) empobrece-lo.

18

Observe a charge a seguir.



Sobre essa charge, a afirmação INADEQUADA é:

- (A) a posição dos dois quadrinhos não pode ser trocada;
- (B) a finalidade básica da charge é a crítica às autoridades;
- (C) o termo “o” do segundo quadrinho é explicado no primeiro;
- (D) as formas verbais dos cartazes referem-se a sujeitos diferentes;
- (E) o termo “1º de Maio” só se refere ao primeiro quadrinho.

19

NÃO se opõem na charge:

- (A) uso de sapatos X andar descalço;
- (B) chapéu X cabeleira;
- (C) trabalhador X manifestante;
- (D) rosto barbeado X rosto barbado;
- (E) sorriso X preocupação.

20

Os vocábulos formados sem a ajuda de um sufixo são:

- (A) trabalho e imposto;
- (B) imposto e empobrecer;
- (C) empobrecer e enobrecer;
- (D) enobrecer e corrupção;
- (E) corrupção e inflação.

Matemática

21

Levantamento estatístico de uma empresa constatou que 70% dos funcionários eram do sexo masculino. Ainda de acordo com esse levantamento, a média salarial mensal dos funcionários do sexo masculino era de R\$ 3.000,00 e a média salarial mensal dos funcionários do sexo feminino era de R\$ 4.500,00.

Considerando todos os funcionários dessa empresa, a média salarial mensal é de:

- (A) R\$ 3.950,00
- (B) R\$ 3.750,00
- (C) R\$ 3.650,00
- (D) R\$ 3.450,00
- (E) R\$ 3.250,00

22

Três grandezas A , B e C , são tais que A é diretamente proporcional a B e inversamente proporcional ao quadrado de C .

Quando $B = 6$ e $C = 3$ tem-se $A = 1$.

Quando $A = 3$ e $C = 2$, o valor de B é:

- (A) 1
- (B) 2
- (C) 4
- (D) 6
- (E) 8

23

Fernando possui um título que tem taxa de desconto de 0,75% ao mês e que paga mensalmente a quantia de R\$ 900,00, perpetuamente. Se Fernando quiser vender esse título, o seu preço justo é de:

- (A) R\$ 12.000,00
- (B) R\$ 67.500,00
- (C) R\$ 90.000,00
- (D) R\$ 120.000,00
- (E) R\$ 675.000,00

24

Francisco não tinha herdeiros diretos e assim, no ano de 2003, no dia do seu aniversário, fez seu testamento. Nesse testamento declarava que o saldo total da caderneta de poupança que possuía deveria ser dividido entre seus três sobrinhos em partes proporcionais às idades que tivessem no dia de sua morte. No dia em que estava redigindo o testamento, seus sobrinhos tinham 12, 18 e 20 anos. Francisco morreu em 2013, curiosamente, no dia do seu aniversário e, nesse dia, sua caderneta de poupança tinha exatamente R\$ 300.000,00. Feita a divisão de acordo com o testamento, o sobrinho mais jovem recebeu:

- (A) R\$ 72.000,00
- (B) R\$ 82.500,00
- (C) R\$ 94.000,00
- (D) R\$ 112.500,00
- (E) R\$ 120.000,00

25

Para empréstimos a clientes comuns, uma financeira cobra taxa nominal de juros de 84% ao ano com capitalização mensal. Para um empréstimo de dois meses, a taxa efetiva de juros é, aproximadamente de:

- (A) 14,1%
- (B) 14,3%
- (C) 14,5%
- (D) 14,7%
- (E) 14,9%

26

Pedro pergunta a Paulo se ele pode trocar uma nota de R\$ 100,00 por duas notas de R\$ 50,00. Paulo responde que tem exatamente R\$ 200,00 na carteira em notas de R\$ 50,00, R\$ 20,00 e R\$ 10,00, mas não sabe quantas notas tem de cada valor. Sabe apenas que tem pelo menos uma de cada valor.

Considere que todas as distribuições possíveis de notas de R\$50,00, R\$20,00 e R\$10,00 que podem ocorrer na carteira de Paulo sejam igualmente prováveis. A probabilidade de que Paulo possa fazer a troca pedida por Pedro é de:

- (A) $\frac{2}{13}$
- (B) $\frac{4}{13}$
- (C) $\frac{5}{13}$
- (D) $\frac{6}{13}$
- (E) $\frac{7}{13}$

27

Em uma agência bancária, dois caixas atendem em média seis clientes em 10 minutos. Considere que, nesta agência, todos os caixas trabalham com a mesma eficiência e que a média citada sempre é mantida. Assim, o tempo médio necessário para que cinco caixas atendam 45 clientes é de:

- (A) 45 minutos;
- (B) 30 minutos;
- (C) 20 minutos;
- (D) 15 minutos;
- (E) 10 minutos.

28

Para Hugo, qualquer pessoa com menos de 40 anos é jovem e qualquer pessoa com 40 anos ou mais é velha. Hugo diz que, na empresa em que trabalha 27% das pessoas são velhas. Ele verificou também que entre todas as pessoas da empresa, 20% das mulheres são velhas e 40% dos homens são velhos. Entre as pessoas que trabalham nessa empresa, a porcentagem de homens é de:

- (A) 35%
- (B) 40%
- (C) 45%
- (D) 55%
- (E) 65%

29

Um advogado comprou uma sala para instalar seu escritório por R\$ 120.000,00 utilizando o sistema de amortização constante (SAC). O banco financiou a compra dessa sala em 24 meses com juros de 2% ao mês. A segunda prestação que esse advogado deverá pagar será de:

- (A) R\$ 5.800,00
- (B) R\$ 6.200,00
- (C) R\$ 6.700,00
- (D) R\$ 7.300,00
- (E) R\$ 7.400,00

30

Jonas investiu R\$50.000,00 em certo título e retirou o total de R\$60.000,00 seis meses depois. A rentabilidade anual desse investimento no regime de juros compostos é de:

- (A) 1,44%
- (B) 40%
- (C) 44%
- (D) 140%
- (E) 144%

31

Um banco solicita a seus clientes uma senha adicional formada por três letras, não necessariamente distintas, entre as dez primeiras letras do alfabeto. Para digitar a senha em um caixa eletrônico, aparecem cinco teclas cada uma correspondendo a duas letras:

Teclas	Letras
1	A B
2	C D
3	E F
4	G H
5	I J

João percebeu que a pessoa ao lado apertou em sequência as teclas 2, 2, 4. A probabilidade de que João adivinhe a senha dessa pessoa em uma única tentativa é:

- (A) $\frac{1}{2}$
- (B) $\frac{1}{3}$
- (C) $\frac{1}{4}$
- (D) $\frac{1}{6}$
- (E) $\frac{1}{8}$

32

Francisco estava devendo R\$ 2.100,00 à operadora do cartão de crédito, que cobra taxa mensal de juros de 12%. No dia do vencimento pagou R\$ 800,00 e prometeu não fazer nenhuma compra nova até liquidar com a dívida. No mês seguinte, no dia do vencimento da nova fatura pagou mais R\$ 800,00 e, um mês depois, fez mais um pagamento terminando com a dívida. Sabendo que Francisco havia cumprido a promessa feita, o valor desse último pagamento, desprezando os centavos, foi de:

- (A) R\$ 708,00
- (B) R\$ 714,00
- (C) R\$ 720,00
- (D) R\$ 728,00
- (E) R\$ 734,00

33

Renato pediu empréstimo ao banco para pagamento em um ano com taxa anual real de juros de 28%. Sabendo que a inflação prevista para o período é de 7%, a taxa aparente de juros é de, aproximadamente:

- (A) 33%
- (B) 34%
- (C) 35%
- (D) 36%
- (E) 37%

34

Uma loja cobra, nas compras financiadas, 10% de juros ao mês. Nessa loja um forno de micro-ondas estava anunciado da seguinte forma: entrega na hora com zero de entrada, R\$ 264,00 um mês após a compra e R\$ 302,50 dois meses após a compra.

O preço à vista equivalente para esse forno é de:

- (A) R\$ 453,20
- (B) R\$ 467,00
- (C) R\$ 490,00
- (D) R\$ 509,85
- (E) R\$ 566,50

35

Um título de valor nominal R\$ 8.800,00 é pago dois meses antes do vencimento com desconto comercial composto a uma taxa de 5% ao mês.

O valor descontado é de:

- (A) R\$ 8.000,00
- (B) R\$ 7.982,00
- (C) R\$ 7.942,00
- (D) R\$ 7.920,00
- (E) R\$ 7.910,00

Conhecimentos gerais

36

Analise as características dos biomas descritos abaixo:

I. É um bioma exclusivamente brasileiro, constituído principalmente por savanas estépicas, ocupando a totalidade do estado do Ceará, parte de Alagoas, Bahia, Pernambuco e Piauí, entre outros. Entre as espécies de planta encontradas nesse bioma, há a amburana, a aroeira, o umbu e o juazeiro.

II. É um bioma considerado uma das savanas mais ricas do mundo em biodiversidade, reunindo uma grande variedade de paisagens, entre chapadas e vales. Esse bioma se estende pelos estados de Mato Grosso, Mato Grosso do Sul, Goiás, Tocantins, Minas Gerais, Distrito Federal e Piauí, sobretudo.

As características descritas correspondem, respectivamente, aos biomas:

- (A) Mata Atlântica e Pampa;
- (B) Pampa e Amazônia;
- (C) Caatinga e Cerrado;
- (D) Cerrado e Mata Atlântica;
- (E) Amazônia e Caatinga.

37

Acerca do Banco do Nordeste do Brasil, é correto afirmar que:

- (A) foi criado pela Lei nº 2004, de 19 de junho de 1954;
- (B) sua área de atuação abrange todos os Estados da Região Nordeste, Tocantins e o norte do Estado de Minas Gerais;
- (C) é uma instituição financeira pública constituída sob a forma de sociedade anônima aberta e de economia mista;
- (D) sua administração é feita por uma diretoria executiva composta de 10 (dez) membros, sendo um presidente e nove diretores;
- (E) criou em 2003 sua Comissão de Ética, para receber reclamações dos clientes insatisfeitos com as soluções apresentadas pelos canais de atendimento.

38

O Comitê de Política Monetária (Copom) do Banco Central tem o objetivo de estabelecer as diretrizes da política monetária e de definir a taxa de juros, sendo a sistemática de metas de inflação uma das principais diretrizes dessa política. Usualmente a meta de inflação tem sido definida por um valor central e as margens de tolerância, em pontos percentuais, para cima e para baixo. Para 2014, o valor central e as margens de tolerância foram fixadas, respectivamente, em:

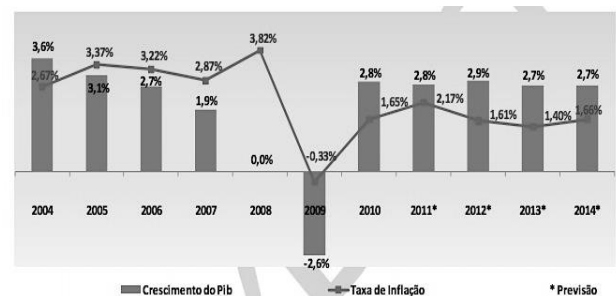
- (A) dois e meio por cento, 2 pontos percentuais;
- (B) três e meio por cento, 2 pontos percentuais;
- (C) quatro e meio por cento, 2 pontos percentuais;
- (D) cinco por cento, 2 pontos percentuais;
- (E) seis e meio por cento, 1 ponto percentual.

39

A respeito do atual quadro eleitoral no Brasil e no resto da América Latina, é correto afirmar que:

- (A) no Chile, Michelle Bachelet se reelegeu em 2013 e anunciou diminuir as desigualdades sociais, mediante uma reforma tributária e investimentos para oferecer um sistema educacional público;
- (B) na Colômbia, o atual presidente Álvaro Uribe pretende concorrer ao segundo mandato, e, para tanto, está abrindo o diálogo com os guerrilheiros das Forças Armadas Revolucionárias da Colômbia (Farc);
- (C) no Uruguai, a direita, representada pelo presidente José Mujica, se lança à reeleição prometendo ampliar o combate à dependência química iniciado em 2013, com a criminalização do uso de maconha;
- (D) no Brasil, os candidatos de oposição à reeleição da atual Presidente Dilma Rousseff (PT), Eduardo Campos (PSDB) e Aécio Neves (PMDB), têm bases em Pernambuco e em Minas Gerais, estados nos quais já foram governadores;
- (E) na Bolívia, Evo Morales anuncia concorrer em 2014 ao segundo mandato presidencial, dando prosseguimento ao programa de apoio aos movimentos camponeses e indígenas na América Latina.

40



Fonte: FMI (Elaborado por UICC Apex-Brasil)

Com base no gráfico sobre a variação do PIB e da taxa de inflação dos Estados Unidos na última década, é correto afirmar que:

- (A) entre 2004 e 2007 houve uma tendência de aumento do crescimento da economia americana, acompanhado por uma queda da inflação, que passou de 3,6 %, em 2004, para 1,9% no final deste período;
- (B) a crise econômica mundial de 2008 repercutiu fortemente na economia estadunidense, cuja taxa de crescimento caiu em 1,9% em 2008, em relação ao ano anterior, zerando o percentual de crescimento;
- (C) o ápice da recessão foi em 2009, quando a queda da produtividade econômica foi agravada pela crise internacional do petróleo, desencadeada pela intervenção americana no Golfo Pérsico;
- (D) desde 2010 há uma tendência de recuperação da economia norte-americana, mas não há previsão de quando o PIB voltará a atingir as taxas de crescimento anteriores à crise mundial de 2008;
- (E) o pico inflacionário ocorrido em 2008 gerou uma elevação constante dos preços no mercado americano, tendo um impacto direto na atual queda de exportações e da taxa de emprego.

41

ÁREAS VULNERÁVEIS À DESERTIFICAÇÃO NO NORDESTE

Fonte: Jornal *O Globo*, 05/11/2004.

"A Convenção das Nações Unidas para o Combate à Desertificação (UNCCD) conceitua *desertificação* como o processo de degradação das terras em regiões áridas, semiáridas e subúmidas secas, em decorrência de fatores como ação antrópica e mudanças climáticas. Essa degradação é a perda ou redução da produtividade econômica ou biológica dos ecossistemas secos, causadas pela erosão do solo, deterioração dos recursos hídricos e perda da vegetação natural".

CIRILO, José Almir, "Políticas públicas de recursos hídricos para o semiárido" in *Estudos Avançados*, 2008, vol.22, n.63, p. 68.

Com base nas informações fornecidas, analise as afirmativas a respeito do impacto climático desse processo no semiárido brasileiro.

I. Entre as áreas do Nordeste afetadas pelo processo de desertificação encontram-se o "núcleo de Seridó", na região centro-sul do Rio Grande do Norte e centro-norte da Paraíba; o "núcleo de Irauçuba" no noroeste cearense; o "núcleo de Gilbués" no Piauí e o de Cabrobó em Pernambuco.

II. As mudanças climáticas globais em curso geram, na região semiárida brasileira, aumento da temperatura e da evaporação nos corpos d'água e consequente redução do volume neles escoado, além de concentração do período chuvoso em menor espaço de tempo, com redução da precipitação.

III. O semiárido brasileiro apresenta situações difíceis de serem superadas, pois os solos são, em sua maior parte, muito rasos, com a rocha quase aflorante, o que prejudica a formação de aquíferos, sua recarga e a qualidade de suas águas.

Assinale se:

- (A) somente a afirmativa I estiver correta;
- (B) somente a afirmativa II estiver correta;
- (C) somente a afirmativa III estiver correta;
- (D) somente as afirmativas I e II estiverem corretas;
- (E) todas as afirmativas estiverem corretas.

42

Leia o texto a seguir, extraído da home page do Banco do Nordeste do Brasil S.A. (BNB):

"A atividade que define uma instituição financeira é a concessão de crédito". Porém, para cumprir a missão de desenvolvimento em uma região com muitas potencialidades ainda não exploradas, o Banco do Nordeste entende que o crédito é necessário, mas não deve ser o único serviço oferecido.

Com esta convicção, o Banco criou diversos instrumentos que lhe possibilitaram atuar mais próximo dos clientes e ampliar suas atividades, indo além da intermediação financeira, buscando contribuir para garantir a sustentabilidade dos empreendimentos financiados, associada à melhoria das condições de vida da população nordestina.

São ações antecedentes e subsequentes à concessão de crédito que vêm contribuindo para maior efetividade dos recursos aplicados, seja por darem maior capilaridade ao Banco, possibilitando maior aproximação com o cliente e conhecimento de seu negócio, seja por favorecerem a identificação de parceiros para implementação de iniciativas conjuntas, por exemplo, nas áreas de pesquisa, assistência técnica e apoio à comercialização".

Com relação às ações e instrumentos utilizados pelo Banco do Nordeste, analise os itens a seguir:

- (I) O Programa de Desenvolvimento da Agricultura Familiar na Zona da Mata - PROMATA - de apoio aos pequenos produtores;
- (II) As políticas de desenvolvimento territorial;
- (III) O Crediamigo, programa de microcrédito produtivo orientado que facilita o acesso ao crédito a milhares de empreendedores;
- (IV) Os agentes de desenvolvimento e as agências itinerantes.

Assinale se:

- (A) somente III estiver correto;
- (B) somente I e IV estiverem corretos;
- (C) somente I, II e III estiverem corretos;
- (D) somente II, III e IV estiverem corretos;
- (E) somente I, II e IV estiverem corretos.

43

A tabela abaixo apresenta as taxas de crescimento do PIB dos estados do Nordeste comparativamente ao do Brasil, nas últimas quatro décadas.

Taxa Média Anual de Crescimento do PIB – Nordeste e Brasil		
Período	Nordeste (%)	Brasil (%)
1970-1980	8,7	8,6
1980-1990	2,3	1,6
1990-2000	2,0	2,5
2000-2005	4,1	2,8
2006	4,8	4,0
2007 ⁽¹⁾	5,7	5,7
2008 ⁽¹⁾	5,9	5,1

Fontes: FGV/IBRE (1970 a 1984) para o Brasil. SUDENE/DPG/PSE (1970 a 1984) para o Nordeste. IBGE/Contas Regionais (2003 – 2006).

Com base em seus conhecimentos e nos dados fornecidos pela tabela, analise a(s) afirmativa(s) a seguir, considerando V para a(s) verdadeira(s) e F para a(s) falsa(s).

- A economia nordestina apresentou um desempenho econômico favorável entre 1970 e 1980, quando o PIB regional cresceu, em média, a 8,7% ao ano, e superou a taxa de crescimento médio do Brasil para esse mesmo período.
- A partir da década de 1980, as taxas de crescimento diminuíram, em função do contexto difícil da economia brasileira, de que são exemplo a crise da dívida externa, os elevados índices de inflação e a adoção de políticas restritivas ao crescimento.
- Nos períodos de 1980-1990 e de 1990-2000, as chamadas "décadas perdidas", a economia nordestina apresentou uma taxa média total de crescimento levemente inferior à média brasileira.
- A partir de 2000, o desempenho do PIB do Nordeste retomou um índice de crescimento superior à média brasileira, embora ainda inferior aos números obtidos na década de 1970.

A sequência correta é:

- (A) V - F - F - V;
- (B) V - V - F - V;
- (C) V - V - F - F;
- (D) V - V - V - F;
- (E) F - V - F - V.

44

Observe a fórmula mostrada a seguir e as afirmativas sobre os meios para sua edição nos processadores de texto MS Word 2010 e brOffice Writer 2.4.

$$x = \frac{-b \pm \sqrt{b^2 - 4ac}}{2a}$$

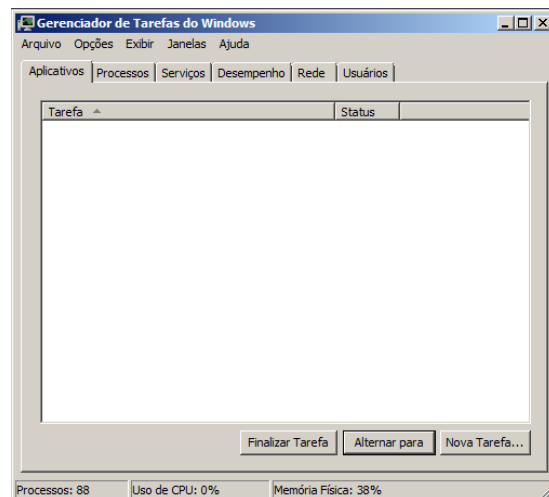
- I. A edição de fórmulas no Word é feita por meio dos objetos de desenho e dos símbolos matemáticos disponíveis, pois não há um mecanismo especial para tal.
- II. A edição de fórmulas no Word é feita por meio da edição de um objeto especial, denominado *Equação*, que é inserido no corpo do texto.
- III. A edição de fórmulas no brOffice é feita por meio dos objetos de desenho e dos símbolos matemáticos disponíveis, pois não há um mecanismo especial para tal.
- IV. A edição de fórmulas no brOffice é feita por meio de objetos disponíveis no brOffice Calc, que são posteriormente importados como figuras para o corpo do texto.
- V. A edição de fórmulas no brOffice é feita por meio do recurso *Math*, que promove a inserção de um objeto especial no corpo do texto.

Estão corretas somente as afirmativas:

- (A) I e III;
- (B) I e IV;
- (C) II e III;
- (D) II e IV;
- (E) II e V.

45

A figura a seguir mostra uma tela de um importante utilitário do Windows 7.



Por meio dessa tela é possível:

- (A) criar uma nova conexão de rede;
- (B) determinar a taxa de utilização de espaço nos drives;
- (C) alterar a senha do usuário corrente;
- (D) sair de um programa que não está respondendo;
- (E) desligar o computador.

46

Mateus mantém uma planilha com a lista de fornecedores de uma empresa, contendo o código de cada fornecedor e diversas informações de cadastro. Na planilha, cada fornecedor ocupa uma linha, e os dados estão dispostos em colunas. Como cada fornecedor deve ter um código único, Mateus gostaria de verificar a integridade dos dados com algum tipo de alerta que ajudasse a identificar um erro comum de preenchimento, que é o de atribuir o mesmo código a mais de um fornecedor. No Excel 2010, um alerta desse tipo, que não interfira no preenchimento da planilha ou na ordem em que os registros aparecem, pode ser mais fácil e rapidamente implementado por meio:

- (A) do recurso de *Validação de Dados*;
- (B) de uma função definida pelo usuário, escrita em VBA;
- (C) do recurso de *Formatação Condicional*;
- (D) dos recursos oferecidos pelo menu *Controlar Alterações*;
- (E) dos recursos oferecidos pelo menu *Classificar e Filtrar*.

47

Observe o trecho de planilha MS Excel mostrado a seguir.

	A	B	C	D
1	14	2	7	
2		4	10	
3		1	14	
4	14	2	7	
5		4	10	
6		1	14	

Sabendo-se que as células da região A4:C6 acabaram de ser copiadas (cópia normal, com ctrl-C e ctrl-V) das células da região A1:C3, e que o recurso *Rastrear Precedentes* está acionado, pode-se concluir que a fórmula na célula A1 é:

- (A) = B2 + C\$2
- (B) = B1 * \$C1
- (C) = B3 * C\$3
- (D) = B\$2 + \$C2
- (E) = B2 + \$C2

48

Numa instalação Unix (ou Linux), o comando

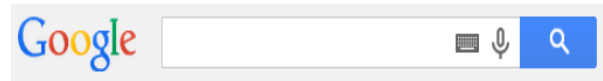
```
cat xxx1 xxx2 > xxx3
```

provoca:

- (A) a cópia dos arquivos xxx1 e xxx2 para a pasta xxx3;
- (B) a criação da pasta xxx3 contendo cópias dos arquivos xxx1 e xxx2;
- (C) a anexação do conteúdo dos arquivos xxx1 e xxx2, nessa ordem, ao arquivo xxx3;
- (D) a gravação do arquivo xxx3 com o conteúdo dos arquivos xxx1 e xxx2;
- (E) a transferência dos arquivos das pastas xxx1 e xxx2 para a pasta xxx3.

49

Em certas situações, a caixa de busca para o Google mostra-se como na figura abaixo.



Nesse caso, o ícone



indica que a pesquisa:

- (A) se refere a termos de busca previamente gravados num arquivo;
- (B) ficará restrita à localização de vídeos e arquivos de áudio;
- (C) ficará restrita aos sites do país onde o computador está conectado;
- (D) será realizada por meio de protocolos seguros, criptografados;
- (E) será determinada por comando de voz.

50

Considere os seguintes procedimentos sobre uma tabela em um processador de textos:

- I. Selecionar uma linha, clicar com o botão direito do mouse sobre a seleção e seguir as opções do menu para inserir uma nova linha.
- II. Posicionar o cursor na última célula da última linha e teclar *Tab* (→) para inserir uma linha no final da tabela.
- III. Selecionar uma célula qualquer e usar a combinação de menu *Inserir/Tabela* para criar uma tabela dentro da célula selecionada.
- IV. Selecionar uma linha e teclar *Delete* para excluir da tabela a linha selecionada.

Com relação aos processadores de texto MS Word 2010 e brOffice Writer 2.4, está correto afirmar que:

- (A) brOffice e Word suportam somente os procedimentos I e II;
- (B) brOffice suporta todos os procedimentos; Word suporta somente os procedimentos I, II e III;
- (C) brOffice suporta somente os procedimentos I, II e III; Word suporta todos os procedimentos;
- (D) brOffice suporta somente os procedimentos I e II; Word suporta somente os procedimentos I, II e III;
- (E) brOffice e Word suportam somente os procedimentos I, II e III.

Conhecimentos específicos

51

O Banco Central do Brasil (BC ou BACEN) foi criado pela lei nº 4595, de 31/12/1964, para atuar como órgão executivo central do sistema financeiro, tendo como funções cumprir e fazer cumprir as disposições que regulam o funcionamento do sistema e as normas expedidas pelo CMN (Conselho Monetário Nacional). Entre as atribuições do Banco Central estão:

- (A) emitir papel-moeda, exercer o controle do crédito e exercer a fiscalização das instituições financeiras, punindo-as quando necessário;
- (B) determinar as taxas de recolhimento compulsório, autorizar as emissões de papel-moeda e estabelecer metas de inflação;
- (C) regulamentar as operações de redesconto de liquidez, coordenar as políticas monetárias creditícia e cambial e estabelecer metas de inflação;
- (D) regular o valor interno da moeda, regular o valor externo da moeda e zelar pela liquidez e solvência das instituições financeiras;
- (E) determinar as taxas de recolhimento compulsório, regular o valor interno e externo da moeda e autorizar as emissões de papel-moeda.

52

O Sistema Financeiro Nacional (SFN) é composto por um conjunto de instituições que se dedica a manter o fluxo de recursos entre unidades superavitárias (poupadoras) e unidades deficitárias (tomadoras / investidoras). O SFN mantém a ordem no mercado financeiro por meio de normas e procedimentos. O SFN é composto por um sistema normativo, além dos agentes que o operam, tais como instituições (especiais e auxiliares) e intermediários financeiros – monetários e não monetários.

Considerando as diferenças entre esses agentes, é correto afirmar que:

- (A) intermediários financeiros captam recursos junto ao público e investem na Bolsa de Valores; as instituições auxiliares, embora também capturem junto ao público, investem no mercado imobiliário;
- (B) intermediários financeiros monetários captam recursos junto ao público e emprestam esses recursos, criando moeda escritural; as instituições auxiliares colocam em contato poupadores e investidores e não criam moeda escritural;
- (C) intermediários financeiros monetários captam recursos junto ao público e emprestam esses recursos, criando moeda escritural; as instituições auxiliares colocam em contato poupadores e investidores, criando também moeda escritural;
- (D) intermediários financeiros não monetários captam depósitos à vista e as instituições especiais não captam depósitos à vista;
- (E) instituições especiais fazem empréstimos especiais, enquanto as instituições auxiliares auxiliam o Banco Central a regular o sistema.

53

Sobre o SPB (Sistema de Pagamentos Brasileiro), é correto afirmar que:

- (A) o SPB não possui interligação de nenhuma ordem com o Banco Central;
- (B) uma das funções do SPB é dar maior agilidade e segurança às transações bancárias;
- (C) o SPB diminuiu a carga de trabalho do BACEN, estimulando a criação e o desenvolvimento de sistemas e procedimentos que não se relacionam com a transferência de recursos financeiros;
- (D) os princípios básicos de funcionamento do SPB foram estabelecidos pelo Conselho Monetário Nacional (CMN) e pela Comissão de Valores Mobiliários (CVM);
- (E) o SPB é responsável pelo controle e fiscalização dos bancos de varejo no Brasil.

54

O Sistema normativo é composto pelas entidades que regulam e fiscalizam o funcionamento do Sistema Financeiro Nacional. Por esse motivo estão no topo do organograma, ou seja, as outras instituições têm que, obrigatoriamente, acatar as decisões do sistema normativo. Entre as entidades que compõem o Sistema Normativo, encontram-se:

- (A) sociedades corretivas e distribuidoras;
- (B) bancos múltiplos e de investimento;
- (C) Banco do Brasil e Caixa Econômica Federal;
- (D) Conselho Monetário Nacional e Banco Central do Brasil;
- (E) Bolsa de Valores e Comissão de Valores Mobiliários (CVM).

55

O Conselho Monetário Nacional (CMN) é o órgão responsável pela fixação das diretrizes das políticas monetária, creditícia e cambial do país. Não cabem ao CMN funções executivas.

O número de membros do CMN foi variável desde a sua criação (31/12/1964), de acordo com as exigências políticas e econômicas de cada Governo. Em razão da Lei nº 9.069/95, em vigor, o CMN passou a ser integrado por:

- (A) 11 (onze) membros;
- (B) 10 (dez) membros;
- (C) 8 (oito) membros;
- (D) 4 (quatro) membros;
- (E) 3 (três) membros.

56

Os seguintes bens podem ser oferecidos como garantia na modalidade penhor:

- (I) joias e relógios;
- (II) imóveis;
- (III) aeronaves;
- (IV) navios.

Assinale se:

- (A) somente I e III estiverem corretas;
- (B) somente II e IV estiverem corretas;
- (C) somente I estiver correta;
- (D) somente II estiver correta;
- (E) somente II, III e IV estiverem corretas.

57

O Código Civil disciplina o empréstimo de coisas nos contratos de comodato e mútuo. Quanto às distinções entre esses contratos, analise as afirmativas a seguir:

- I- O comodato é um contrato consensual, unilateral e comutativo; o mútuo é um contrato real, bilateral e aleatório.
- II- O comodato é o empréstimo de coisas infungíveis; o mútuo é o empréstimo de coisas fungíveis.
- III- O comodato deve ser ajustado por escrito; o mútuo pode ser ajustado verbalmente ou por instrumento público.
- IV- O comodatário deverá conservar a coisa para aliená-la a terceiros; o mutuário não poderá aliená-la a terceiros.
- V- O comodato não transfere o domínio da coisa emprestada; o mutuário adquire o domínio da coisa do mutuante.

Estão corretas somente as afirmativas:

- (A) I e III;
- (B) I e IV;
- (C) II e IV;
- (D) II e V;
- (E) III e V.

58

Os bancos ganham dinheiro com receitas de intermediação financeira e com receitas de prestação de serviços e tarifas. Entre as principais receitas bancárias de prestação de serviços e tarifas, destacam-se:

- I. tarifas sobre depósito à vista e sobre aplicações em CDBs;
- II. tarifas sobre serviços de conta corrente e de corretagem e custódia;
- III. tarifas sobre emissões e anuidades de cartões de crédito;
- IV. receitas sobre administração de fundos de investimento e administração de consórcios.

Está(ão) correta(s) somente:

- (A) I e IV;
- (B) II e III;
- (C) III;
- (D) IV;
- (E) II, III e IV.

59

Simão Dias depositou em sua conta corrente um cheque emitido por Tobias Barreto no valor de R\$ 2.590,00 (dois mil quinhentos e noventa reais). No verso do cheque, o tomador realizou um endosso em favor do sacado. Em conformidade com as normas legais referentes ao cheque, é correto afirmar que:

- (A) o sacado não poderá efetuar a compensação desse cheque porque o endosso ao sacado é nulo;
- (B) o sacado torna-se coobrigado pelo pagamento do cheque, respondendo solidariamente com o emitente;
- (C) com o endosso ao sacado, o emitente está se exonerando da garantia em caso de não pagamento do cheque;
- (D) o sacado não poderá efetuar a compensação deste cheque porque ele não pode figurar como endossatário;
- (E) o endosso ao sacado vale apenas como quitação, não podendo o cheque ser transferido por novo endosso.

60

Com relação aos serviços bancários e financeiros, considere as seguintes afirmativas:

- (I) A conta especial de depósitos à vista (conta simplificada para clientes de baixa renda) é individual (apenas um titular). Cada cliente pode ter apenas uma conta e não pode ser correntista em qualquer outra instituição financeira. Essa conta está isenta de tarifa e possui franquia mensal de cinco extratos, cinco depósitos e cinco saques.
- (II) Bancos de investimento captam depósitos à vista e depósitos de poupança, atuando mais fortemente no crédito agrícola.
- (III) Depósitos a prazo, tais como CDB e RDB, são modalidades de investimento, geralmente classificadas em pós-fixadas, pré-fixadas e flutuantes.
- (IV) Só é possível a abertura de conta de investimento ao cliente que possuir pelo menos uma conta corrente de depósitos à vista, ainda que em instituição distinta.

Assinale se:

- (A) somente II e III estiverem corretas;
- (B) somente III e IV estiverem corretas;
- (C) somente I, II e IV estiverem corretas;
- (D) I, II, III e IV estiverem corretas;
- (E) nenhuma afirmativa estiver correta.

61

Os parâmetros básicos utilizados para orientar a concessão de crédito norteiam-se nos chamados "C's do crédito". São eles:

- (A) caráter, carreira, capacidade, condições e colateral;
- (B) cadastro, comunicação, caráter, coação e capital;
- (C) caráter, cadastro, capital, condições e composição;
- (D) caráter, capacidade, capital, condições e colateral;
- (E) caráter, cadastro, capacidade, condições e comunicação.

62

Com relação à sociedade limitada, analise as afirmativas a seguir:

- I. Os sócios, após a integralização do capital social, respondem até o valor de suas quotas pelas obrigações sociais.
- II. Os sócios não têm responsabilidade solidária pela integralização do capital social.
- III. É disciplinada em capítulo próprio do Código Civil em vigor, podendo o contrato prever a regência supletiva pelas normas das companhias.
- IV. As quotas sociais poderão ser transferidas a terceiros, não sócios, caso o contrato seja omissivo, com o consentimento de todos os sócios.

Estão corretas somente as afirmativas:

- (A) I e II;
- (B) I e III;
- (C) II e III;
- (D) II e IV;
- (E) III e IV.

63

O Plano Gerador de Benefício Livre (PGBL) se difere do Vida Gerador de Benefício Livre (VGBL) no que tange ao tratamento fiscal. No caso do PGBL:

- (A) o imposto de renda é pago no resgate e incide sobre o total do valor resgatado;
- (B) o imposto de renda é pago no resgate e incide sobre os ganhos de capital;
- (C) o imposto de renda é pago semestralmente e incide sobre os ganhos de capital;
- (D) ambas as aplicações são isentas de cobrança de imposto de renda;
- (E) ambas as aplicações estão sujeitas a alíquota fixa de 6% de imposto de renda.

64

Com relação ao CCF (cadastro de emitentes de cheques sem fundos), é correto afirmar que:

- (A) o CCF é operacionalizado pelo Banco Central do Brasil;
- (B) qualquer banco pode fornecer a seus clientes informação quanto à inclusão de seu nome no CCF, sem cobrar qualquer tarifa por essa pesquisa;
- (C) constitui motivo para inclusão do nome do correntista no CCF a devolução de um cheque por insuficiência de fundos na sua primeira apresentação;
- (D) quando se trata de conta corrente conjunta, são incluídos no CCF todos os nomes e CPF dos titulares da conta;
- (E) quando um cheque sem fundos é devolvido, além da cobrança de tarifas, o banco pode cobrar do correntista uma taxa de ressarcimento.

65

Com relação à diferença entre aval e fiança, é correto afirmar que:

- (A) o aval é uma garantia pessoal, enquanto a fiança é uma garantia real;
- (B) o aval é uma garantia real, enquanto a fiança é uma garantia pessoal;
- (C) o aval é uma garantia constituída em um título de crédito, enquanto a fiança é uma garantia estabelecida em contrato ou carta;
- (D) no aval, o credor pode acionar diretamente o avalista, enquanto na fiança se aciona o fiel depositário;
- (E) o aval precisa da assinatura do cônjuge, enquanto a fiança não tem essa exigência.

66

As Instituições Financeiras podem ser classificadas em monetárias e não monetárias. Entre as instituições financeiras monetárias, encontram-se:

- (A) Bancos Comerciais e Bancos de Investimento;
- (B) Bancos de Investimento e Bancos de Desenvolvimento;
- (C) Bancos Comerciais e Bancos de Desenvolvimento;
- (D) Bancos de Investimento e Caixas Econômicas;
- (E) Bancos Comerciais e Caixas Econômicas.

67

As operações de empréstimo concedidas por instituições financeiras à pessoa física ou jurídica que se dedique à atividade comercial ou de prestação de serviços poderão ser representadas por Cédula de Crédito Comercial ou por Nota de Crédito Comercial. Sobre esses títulos de crédito e suas garantias, é correto afirmar que:

- (A) nas cédulas e notas de crédito comercial, não poderão ser pactuados juros capitalizados, sob pena de nulidade dos títulos e dos contratos a eles vinculados;
- (B) a não inscrição da cédula de crédito comercial no Cartório de Registro de Imóveis retira sua validade tanto entre as partes quanto em relação a terceiros;
- (C) o beneficiário da cédula de crédito comercial é a instituição financeira concedente do empréstimo; na nota de crédito comercial, a instituição financeira é a emitente do título;
- (D) a não identificação dos bens objeto da alienação fiduciária cedular não retira a eficácia da garantia, que incidirá sobre outros de mesmo gênero, quantidade e qualidade;
- (E) é obrigatória a descrição dos bens objeto de penhor e do local de seu depósito quando a garantia se constituir através de penhor de títulos de crédito.

68

O contrato de compra e venda é uma espécie de negócio jurídico pela qual um dos contratantes se obriga a transferir o domínio de certa coisa, e o outro, a pagar-lhe certo preço em dinheiro. Com relação a esse contrato, considere as afirmativas abaixo:

- I. O contrato de compra e venda é nulo, quando se deixa ao arbítrio exclusivo de uma das partes a fixação do preço.
- II. A compra e venda pode ter por objeto coisa atual ou futura.
- III. A lei civil autoriza expressamente a compra e venda entre cônjuges, com relação a bens excluídos da comunhão.
- IV. A fixação do preço não pode, de maneira nenhuma, ser deixada ao arbítrio de terceiro.

Assinale se:

- (A) II e IV estiverem corretas;
- (B) I, II e IV estiverem corretas;
- (C) I, II e III estiverem corretas;
- (D) IV estiver correta;
- (E) I, II, III e IV estiverem corretas.

69

O Conselho Monetário Nacional (CMN) é o órgão superior do Sistema Financeiro. A política do CMN objetiva:

- (A) regular o valor interno e externo da moeda;
- (B) controlar exclusivamente o fluxo de capitais estrangeiros;
- (C) realizar operações de redesconto e empréstimos, como instrumento de política monetária como auxílio a problemas de liquidez;
- (D) fiscalizar a interferência de outras sociedades nos mercados financeiros e de capitais;
- (E) emitir papel moeda e moeda metálica.

70

Pedreira Pedra Mole Ltda. pretende descontar duplicatas perante o Banco X. Todos os títulos estão vencidos há mais de quarenta dias e sem pagamento pelo aceitante; também não houve protesto por falta de pagamento. Considerando-se que a orientação do Banco X para desconto de duplicatas é sempre poder cobrar do endossante através de processo de execução, a conduta a ser adotada, com a correspondente justificativa, é:

- (A) recusar o desconto das duplicatas, porque, caso o Banco figure como endossatário, não poderá exercer o direito de regresso em face do endossante;
- (B) recusar o desconto das duplicatas, porque o aceite na duplicata é proibido, e seu descumprimento acarreta a perda do direito de ação em face dos coobrigados;
- (C) aceitar o desconto das duplicatas, porque será possível promover ação de execução em face do endossante, já que este é sempre um coobrigado pelo pagamento;
- (D) aceitar o desconto das duplicatas, porque será possível promover ação de execução em face do endossante, já que este é sempre um coobrigado pelo pagamento;
- (E) aceitar o desconto das duplicatas, desde que os títulos estejam protestados por falta de pagamento e acompanhados do comprovante de entrega da mercadoria.

71

O processo do crédito à pessoa física começa com a coleta e a verificação da veracidade das informações obtidas na ficha de cadastro e em consultas às agências especializadas. Essas informações permitem a atribuição de uma pontuação (credit score), após a qual se aceita ou não o potencial cliente como merecedor de um limite para uma ou mais operações. No caso da pessoa física, a informação que mais interfere na não aceitação de um potencial cliente é:

- (A) idade entre 45 e 60 anos;
- (B) existência de restrições e/ou desabonos no nome do potencial cliente;
- (C) baixo patrimônio em nome do potencial cliente;
- (D) participação do potencial cliente em sociedades de pequeno porte;
- (E) renda familiar entre R\$ 1.500,00 e R\$ 3.000,00.

72

Com relação aos títulos de crédito, é correto afirmar que:

- (A) para a execução de uma duplicata não aceita e não devolvida, há obrigatoriedade do protesto por falta de pagamento e comprovação da remessa da mercadoria;
- (B) a omissão de qualquer requisito legal, que tire ao escrito a sua validade como título de crédito, implica a invalidade do negócio jurídico que lhe deu origem;
- (C) o aval deve ser dado no verso ou no anverso do próprio título, sendo necessário conter a data e a assinatura do avalista;
- (D) em nenhuma hipótese o emitente de uma nota promissória pode opor ao portador endossatário as exceções que poderia opor contra o endossante;
- (E) caso a quantia, em uma nota promissória, esteja escrita mais de uma vez, quer por extenso, quer em algarismos, havendo divergência, prevalecerá a indicação da quantia de menor valor.

73

O cheque é um dos instrumentos disponibilizados pelos bancos para os clientes movimentarem suas contas correntes. Acerca desse título de crédito, considere as seguintes afirmativas:

- I. Os cheques cruzados só podem ser pagos presencialmente ao beneficiário no estabelecimento sobre o qual foi sacado.
- II. Os bancos podem recusar o pagamento de um cheque, caso haja insuficiência ou divergência na assinatura constante de seus cadastros.
- III. Os cheques emitidos acima de R\$ 75,00 (setenta e cinco reais) devem, obrigatoriamente, ser nominais.

Assinale se:

- (A) somente I e II estiverem corretas;
- (B) somente I e III estiverem corretas;
- (C) apenas II estiver correta;
- (D) somente II e III estiverem corretas;
- (E) somente I, II e III estiverem corretas.

74

Na assinatura de contrato pelo Banco X com sociedade empresária do tipo limitada foram emitidas pelo administrador da sociedade cinco notas promissórias, cada uma no valor de R\$12.000,00 (doze mil reais), vinculadas ao cumprimento do contrato. Rosa de Lima, empregada do banco, recebeu o contrato e os títulos para conferência e verificou que em nenhum deles foi indicado o lugar de emissão. Ao consultar seu superior, recebeu a informação correta de que as notas promissórias são:

- (A) nulas e deverão ser substituídas por outras onde conste expressamente o lugar de emissão;
- (B) válidas, por se tratar de título de crédito causal vinculado a um contrato de mútuo de fins econômicos;
- (C) válidas, pois na falta de indicação do lugar de emissão presume-se que esta se deu no domicílio do subscritor;
- (D) nulas, porque deveria ter sido emitida cédula de crédito bancário para qualquer contrato bancário;
- (E) nulas, porque não houve, pela sociedade, prestação de garantia real vinculada ao cumprimento do contrato.

75

Zabelê tem 17 (dezessete) anos de idade e pediu a seu pai a abertura de uma conta corrente bancária para depositar recursos. O pai concordou com o pedido do filho e procurou a instituição financeira. Na abertura de conta, o empregado responsável irá orientar o futuro correntista que:

- (A) o pai de Zabelê é considerado representante legal do absolutamente incapaz e deverá movimentar a conta corrente simultaneamente com ele;
- (B) o pai de Zabelê deverá obter autorização judicial prévia à abertura de conta corrente em favor do relativamente incapaz e deverá movimentá-la com ele;
- (C) Zabelê poderá abrir a conta corrente e movimentá-la independentemente de autorização de seu pai porque é plenamente capaz para os atos civis;
- (D) o pai de Zabelê deverá ser identificado na abertura da conta corrente como responsável assistente do relativamente incapaz, que poderá movimentá-la;
- (E) por ser relativamente incapaz, Zabelê deverá estar autorizado pelos seus pais e tutor, que os assistirão na abertura da conta e responderão solidariamente com ele.

76

Augusto Cardoso contraiu obrigação perante o Banco W S/A com garantia pessoal (fiança) prestada por Cristóvão Carira. No contrato de fiança ficou estabelecido que o fiador é garante solidário ao afiançado, inexistindo qualquer benefício de ordem a seu favor. Na data do vencimento, Augusto Cardoso obteve do credor uma prorrogação de prazo para o pagamento por 120 (cento e vinte) dias, sendo tal acordo celebrado por escrito e sem a anuência ou ciência de Cristóvão Carira. Com base nas disposições do Código Civil relativas ao contrato de fiança, é correto afirmar que:

- (A) o fiador permanece obrigado ao pagamento porque ao prestar a fiança se declarou garante solidário ao afiançado;
- (B) o fiador ficou desobrigado ao pagamento da obrigação em caso de inadimplemento, operando-se a extinção da fiança;
- (C) do fiador poderá ser exigido o pagamento imediato da dívida, mas perante o afiançado prevalecerá o acordo entre este e o credor;
- (D) deverá o fiador interpelar judicialmente o afiançado para ser incluído como parte no acordo firmado por este e o credor;
- (E) o credor deverá interpelar o fiador para se manifestar sobre a prorrogação, em 2 (dois) dias, sob pena de nulidade do acordo.

77

Foi celebrado contrato no âmbito do mercado financeiro entre o Banco W e a sociedade empresária Telha Empreendimentos Turísticos Ltda. pela qual o primeiro terá a propriedade fiduciária em caráter resolúvel de certo bem móvel fungível, em garantia do financiamento concedido, e a segunda, uso e gozo do referido bem. De acordo com as disposições legais relativas a esse contrato e ao procedimento de cobrança, é correto afirmar que, em caso de inadimplemento ou mora da obrigação garantida:

- (A) o credor poderá vender a terceiros o bem objeto da propriedade fiduciária independente de leilão, hasta pública ou qualquer outra medida judicial ou extrajudicial;
- (B) o credor deverá interpor o protesto extrajudicial e, com a obtenção da lavratura e registro do protesto, requerer judicialmente a busca e apreensão do bem para posterior venda em hasta pública;
- (C) o credor poderá adjudicar em juízo imediatamente o bem, independentemente de previsão contratual ou purgação da mora pelo devedor;
- (D) o devedor poderá reter o bem em seu poder até que o credor lhe pague as despesas feitas com a coisa, e os prejuízos que da sua conservação provierem, se devidamente provados;
- (E) verificada a mora, independentemente de notificação ou interpelação, o devedor poderá requerer o depósito judicial da coisa para evitar sua alienação extrajudicial pelo credor.

78

Nem todas as sociedades são obrigadas a elaborar e publicar sua Demonstração Financeira, tais como:

- (A) cooperativas de crédito;
- (B) companhias abertas;
- (C) microempresas enquadradas no Simples Nacional;
- (D) sociedades anônimas controladas por sociedades do tipo limitada;
- (E) bancos comerciais e de investimento.

79

O Fundo Constitucional do Nordeste (FNE) tem seus recursos administrados pelo Banco do Nordeste do Brasil (BNB). Quanto a esse Fundo, analise as afirmativas a seguir:

- I. Na formulação dos programas de financiamento do FNE, será observada a proibição de aplicação de recursos a fundo perdido.
- II. Os planos regionais de desenvolvimento poderão estabelecer prioridades para fins de distribuição dos recursos entre os beneficiários do FNE.
- III. Os recursos do FNE devem ser aplicados no Nordeste, assim compreendido como a região abrangida pelos Estados do Maranhão, Piauí, Ceará, Rio Grande do Norte, Paraíba, Pernambuco, Alagoas, Sergipe e Bahia.

Está(ão) correta(s) somente a(s) afirmativa(s):

- (A) I e II;
- (B) I e III;
- (C) II e III;
- (D) II;
- (E) I, II e III.

80

Num contrato bancário de concessão de crédito com garantia hipotecária de bem imóvel de propriedade do mutuário Cooperativa do Vale do Rio Pardo, cujo valor de avaliação é de R\$4.590.000,00 (quatro milhões quinhentos e noventa mil reais), é imprescindível que:

- (A) seja lavrado instrumento particular de hipoteca, tendo em vista que o devedor é uma cooperativa e o elevado valor do imóvel;
- (B) seja lavrada escritura pública de hipoteca, tendo em vista o valor do imóvel e o negócio jurídico ser constitutivo de garantia real;
- (C) as partes escolham previamente qual será o instrumento de constituição da hipoteca; sendo instrumento particular, deverá ser averbado no Registro de Títulos e Documentos;
- (D) seja lavrado instrumento particular de hipoteca, sob pena de nulidade por descumprimento da forma prescrita em lei para constituição de garantias reais;
- (E) as partes escolham previamente qual será o instrumento de constituição da hipoteca; sendo instrumento público, deverá ser lavrado pelo Registro Empresarial.

Realização

